

بسمه تعالی





تاریخ: ۳۱ / ۲ / ۱۴۰۱

نام و نام خانوادگی:
 دبستان غیردولتی دخترانه کوثر
 پایه: دوم

موضوع: آزمون ریاضی
 سال تحصیلی ۱۴۰۰-۱۴۰۱
 معلمین مربوطه:

شهرستان رفسنجان

۱- به شکل نگاه کنید و جای خالی را پر کنید.

				<table border="1" style="border-collapse: collapse;"> <tr> <td style="padding: 2px;">یکان</td> <td style="padding: 2px;">دهگان</td> <td style="padding: 2px;">صدگان</td> </tr> <tr> <td style="height: 20px;"></td> <td style="height: 20px;"></td> <td style="height: 20px;"></td> </tr> </table>	یکان	دهگان	صدگان			
یکان	دهگان	صدگان								

با عدد
 با حروف

۲- جای خالی را عدد مناسب قرار دهید.

۵۳ - ۵۴ - ○ - ۵۶ - ○

۱۱۸ - ○ - ۱۲۰ - ○

۳- در جای خالی عدد مناسب قرار دهید.

۱۵ - ۷ = ○ ۱۴ - ۶ = ○ ۹ + ۸ = ○ ۷ + ۹ = ○

۴- کم ترین عدد را پیدا کنید و با حروف بنویسید.

۴۰۶ - ۱۵۹ - ۵۴۳ - ۲۵۶ با حروف

۵- عددی بنویسید که صدگانش ۸ و یکانش ۵ باشد این عدد زوج است یا فرد؟

۶- اعداد زیر را با حروف و رقم بنویسید.


۷۱۹ نهصد و نود و سه

۷- محمد ساعت ۷ و نیم به مدرسه رفت و یک ساعت بعد به آنجا رسید چه ساعتی به آنجا رسیده است؟

۸- الگوها را ادامه دهید.

۱۰۰ - ۲۰۰ - - -
 ۴۰ - ۴۲ - - -

۹- چند ریال پول است؟

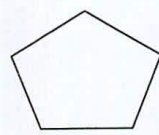

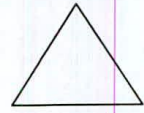
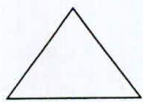
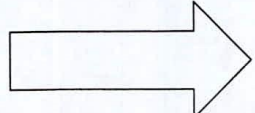

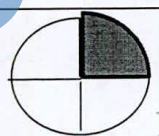



ریال

۱۰- ۵۷ میلی متر سانتی متر و میلی متر.
 ۵ سانتی متر میلی متر.

۱۱- دور اعداد زوج خط بکشید ..

۲۲۳ - ۳۶۸ - ۴۱۲ - ۲۵۹

	<p>۱۲- جمع و تفریق زیر را انجام دهید از راه تکنیکی .</p> $\begin{array}{r} - 720 \\ 318 \\ \hline \end{array} \qquad \begin{array}{r} + 374 \\ 268 \\ \hline \end{array}$
 <p>نام شکل :</p> <p>تعداد ضلع :</p> <p>تعداد گوشه :</p>	<p>۱۳- نام شکل های زیر را بنویسید و جای خالی را پر کنید .</p> <div style="display: flex; justify-content: space-around;"> <div style="text-align: center;">  <p>نام شکل :</p> <p>تعداد ضلع :</p> <p>تعداد گوشه :</p> </div> <div style="text-align: center;">  <p>نام شکل :</p> <p>تعداد ضلع :</p> <p>تعداد گوشه :</p> </div> </div>
	<p>۱۴- مادر زهرا ۴۵ ساله است و زهرا ۲۰ سال از او کوچک تر است . زهرا چند سال دارد ؟</p>
	<p>۱۵- خط تقارن شکل ها را بکشید طوری که شکل ها به دو قسمت مساوی تقسیم شود .</p> 
<p>۷۶۹</p>	<p>۱۶- اعداد زیر با حذف دریکان و دهگان را به تقریب برسانید .</p> <p>۵۴۸</p>
	<p>۱۶- ساعت چند است .</p>
	<p>۱۷- عبارت ها را کامل کنید .</p> <p>..... قسمت از قسمت رنگی است .</p>
	<p>۱۸- جای خالی را پر کنید .</p> <p>..... دسته تایی می شود</p>
	<p>۱۹- در کیسه ای ۷ لوبیا قرمز و ۴ لوبیا سفید است . اگر بدون نگاه کردن لوبیایی را از کیسه بیرون بیاوریم . شانس کدام لوبیا بیشتر است که بیرون بیاید ؟ چرا ؟</p>
	<p>باز خورد توصیفی آموزگار نظر اولیا</p>